

單一選擇題

1.()歷史上，貝殼、茶葉、黃金、白銀等物品曾被拿來當作貨幣，而這些物品本身就是商品，具有一定價值。請問：這種貨幣稱為什麼？ (A)商品貨幣 (B)強勢貨幣。

答案：(A)

2.()陳星合 17 歲第一次在麵攤的電視上看到太陽馬戲團表演時，就像男生看到 NBA 般嚮往，開始瘋狂接觸、自學馬戲雜耍。經過十年的努力，他如願進入太陽馬戲團工作。請問：下列何者是星合從事市場勞動的主要目的？ (A)獲取收入 (B)實踐個人的理想與抱負。

答案：(B)

3.()張先生將每個月的生活費扣除之後，每個月都會固定存一筆錢在銀行裡，以備不時之需。上述說明貨幣具有哪一種功能？ (A)價值衡量 (B)價值儲藏。

答案：(B)

4.()市場是買賣雙方交易的地方，若依照交易場所的型態區分，以下報導中的市場應與何種型態相同？

藝文前線

日本知名插畫家來臺辦展，由於人潮踴躍，現場紀念品商店內的商品全部售罄，只能暫停營業，直到 2~3 星期後補貨完才能再開門營業。

(A)連鎖超級市場 (B)網路線上商城。

答案：(A)

解析：現場紀念品商店為有形市場。(A)(B)(C)無形市場(D)有形市場。


5.()譽恩找工作時看到附圖的資訊決定前往應徵。根據圖中內容判斷，譽恩最在意的工作條件為何？

預防醫學連鎖集團誠徵護理師

歡迎優秀人才來加入我們歡樂的大家庭

【擁有完整的進修培訓系統及良好的升遷制度】

- ★ 工作內容……
- ★ 待遇……



(A)優渥的薪資待遇 (B)完善的升遷管道。

答案：(B)

解析：圖中強調良好的升遷制度。

6.()「資源有限，欲望無窮」，稀少性使我們必須做出選擇，而「稀少性」的定義為下列何者？

(A)資源總數量的多寡 (B)資源無法滿足人們的欲望。

答案：(B)

7.()小兔在考前整理某種支付工具的特性，標題卻不小心被打翻的飲料汙漬遮住，如附圖所示。請問：汙漬處應是下列何者？

特性

- ◆ 使交易更便利
- ◆ 政府認可其支付功能
- ◆ 先消費後付款

(A)信用卡 (B)儲值卡。

答案：(A)

8.()高雄氣爆發生後，台積電救災團隊進駐災區協助災民重建家園。請問：台積電此做法的目的為何？ (A)善盡企業的社會責任 (B)展現員工的專業技能。

答案：(A)

9.()當我們所使用的資源，無法滿足我們的欲望，或是所擁有的物品數量少於我們所希望的數量時，會迫使我們面臨經濟學上的何種問題？ (A)成本 (B)選擇。

答案：(B)

10.()芊芊欲購買一張新書桌，她製作了不同廠商販賣的同一商品比較如附表。請問：在不考慮其他因素，單純以價格作為考量，芊芊會選擇下列何者？

廠商	價格	服務	品質
甲	最高	良好	良好
乙	高	尚可	差
丙	中	最好	最好
丁	最低	差	尚可

(A)甲 (B)丁。

答案：(B)

11.()萍萍在準備公民科段考時整理的考前重點如附表，請問：哪個部分有明顯錯誤？

(甲) 同類型廠 商數量	(乙) 市場型態	(丙) 售價	(丁) 商品品質
多	低度競爭	較低	較好
少	高度競爭	較高	較差

(A)乙 (B)丙

答案：(A)

12.()原始社會中，在市場上的交易行為採「以物易物」的方式，其最大的缺點為何？

(A)違法時難以取締 (B)耗時費力又不方便。

答案：(B)

13.()阿莉收到一則廣告簡訊，內容為「遊樂園入園票大優待，每人只要 600 元。」請問：這則簡訊的內容凸顯出貨幣的哪一項功能？ (A)交易媒介 (B)價值衡量。

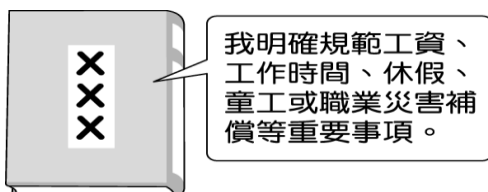
答案：(B)

解析：簡訊中提到的入園票價，說明貨幣具有價值衡量的功能。

14.()俗話說：「殺頭的生意有人做，賠本的生意無人做。」可見多數人從事市場勞動，其主要目的是下列何者？ (A)獲取收入 (B)賺賠不計。

答案：(A)

15.()學亮為完成學校報告，至圖書館借相關書籍來參考。附圖為他在書中看到的擬人化圖像。請問：此部法律應為下列何者？



(A)《勞動基準法》 (B)《就業服務法》。

答案：(A)

16.()端午節即將來臨，衛生局抽檢市售粽子、粽餡，發現部分產品抽驗不合格，業者在第一時間主動將所有商品下架回收、銷毀。請問：上述業者的做法為下列何種表現？

(A)負起政治責任 (B)負起社會責任。

答案：(B)

17.()最近阿美準備考研究所，但是好幾間研究所都選在同一天考試，令阿美非常苦惱，不知如何選擇。爸爸告訴阿美，選擇一間自己最有把握，不考會非常後悔的學校去考。請問：爸爸的建議是要阿美思考下列何種概念？ (A)機會成本 (B)外部效益。

答案：(A)

18.()海賊王的主角們參加財經知識競賽，關於匯率的認知，下列何人的說法正確？

(A)魯休：匯率的變動對進出口有影響 (B)香吉世：各國的匯率皆由政府操作決定。

答案：(A)

19.()政府為了保障國民消費生活的安全，制定哪一部法律，規範消費者與廠商之間的消費關係？

(A)《公平交易法》 (B)《消費者保護法》。

答案：(B)

20.()阿牛很喜歡喝鮮乳，發現某家超商針對他愛喝的鮮乳品牌推出「買一送一」的促銷活動，因此他購買了兩罐。請問：上文中的促銷活動是屬於廠商間的哪一種競爭方式？

(A)價格 (B)產品品質。

答案：(A)

21.()一般來說，在自由競爭的市場經濟中，商品價格是如何決定的？

(A)由買賣雙方共同決定 (B)由政府統一決定。

答案：(A)

22.()下列何種行為將獲取「銷貨收入」？

(A)小蓮到補習班聽英文課 (B)阿南在網路上賣手工飾品。

答案：(B)

23.()當商品價格上升時，生產者的生產意願會呈現何種變化？

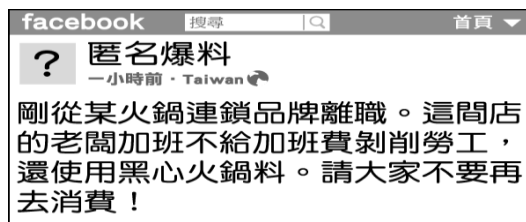
(A)減少 (B)增加。

答案：(B)

24.()政府為協助清寒家庭的子女不因為經濟因素而中輟學業，因此對於低所得家庭的子女均提供金錢借貸以利其就學。陳小紅在大學時辦理就學貸款，於畢業後開始工作，每月償還 4,000 元。請問：上述顯示了貨幣的哪一功能？ (A)債務清償 (B)價值儲藏。

答案：(A)

25.()附圖為臉書社團的匿名爆料，根據內容判斷，下列敘述何者正確？



(A)企業品牌形象遭毀 (B)業者注重員工勞動權益。

答案：(A)

26.()彰化某業者製造販售的「純蒜酥」，被指摻入蠶豆酥與低價的麥麩充數，導致蠶豆症患者食用後身體不適。請問：上述業者此舉的主要目的為何？

(A)削價競爭 (B)降低成本。

答案：(B)

27.()秀閔分享她日常生活的照片，如附圖所示。由圖判斷，下列關於「新鮮空氣」的敘述何者正確？

住在山上真好，每天都
可以聞到新鮮的空氣。



(A)屬於自由財 (B)具有稀少性。

答案：(A)

28.()俗話說「天底下沒有白吃的午餐」、「有得必有失」，皆與下列哪一個經濟觀念最相關？

(A)機會成本 (B)外部成本。

答案：(A)


29.()珍妮時常使用網路購物，且會貨比三家。今天在比價時看到網頁顯示附圖便立即下單購買。請問：由圖中內容判斷，廠商是透過哪一種方式吸引消費者的注意？



(A)企業形象 (B)價格。

答案：(B)

30.()學校召開班代會議，由附圖對話判斷，各班代表最可能是面臨何種問題而進行討論？



(A)資源分配 (B)校園霸凌。

答案：(A)