

蘭潭國中社會領域-地理科三年級上學期補考題庫卷

一、選擇


1. (B) 由於非洲人口增加快速且經濟逐漸發展，對於電力的需求日益增加。所幸在回歸線附近的地區，擁有潛能極高的再生能源，若能善加利用，必能改善非洲用電短缺的問題。請問：上文中所提的再生能源，最有可能為下列何者？ (A)水力發電 (B)太陽能發電。
2. (A) 俄羅斯哪一個地區因自然條件較佳，都市、產業、人口都集中於此？ (A) 歐俄平原 (B) 西伯利亞平原。
3. (B) 新聞報導：「臺灣登山隊成功攀登上非洲的最高峰。」請問：他們所攀登的是哪一座山？ (A)高加索山 (B)吉力馬札羅山。
4. (B) 歐洲三面環海，猶如歐亞大陸西北側的一個大半島，附圖為歐洲周圍的海域圖。請問：圖中丁所指的水域為何？ (A)北海 (B)地中海。



5. (B) 下列哪一種冰河地形因谷底寬平利於道路修築，常成為阿爾卑斯山區南北往來的天然孔道？ (A)峽灣 (B)U型谷。
6. (A) 「某國嘉年華會的森巴舞可說是南美洲多元文化的結晶，此種舞步也被融入在當地的足球運動，其足球隊員踢球時，節奏明快，猶如踏著熱情的森巴舞。」文中所敘述的國家應該為下列何者？ (A)巴西 (B)墨西哥。
7. (A) 巴西總統被指為放火燒亞馬孫的尼祿(Nero，放火燒羅馬城的羅馬帝國皇帝)，他不理會外界批評，還說這是農夫整地的「火耕季節」。請問：不受約束的人為縱火導致某種天然植被發生大火，正在毒化數百萬人賴以呼吸的空氣，並導致全球最大的生態物種基因庫受到破壞，該天然植被最有可能是指下列何者？ (A)雨林 (B)莽原。
8. (B) 「這個國家是全世界人口最多的西班牙語國家，有許多以玉米做成的食物，在北方邊界設置的許多加工出口區，吸引以美國為首的外資投入電子、紡織和汽車等工業，所生產的汽車更是供應美國市場的第一大國。」請問：上文所述的國家應是下列哪個國家？ (A)加拿大 (B)墨西哥。
9. (B) 歐洲哪一個半島因緯度高，且曾為冰河中心，冰蝕地形相當發達？ (A)巴爾幹半島 (B)斯堪地那維亞半島。
10. (A) 某人遊歷歐洲各國，抵達某一景點時，在社群網站打卡，重點標記為「#半島 #世界文化遺產 #火山遺址 #維蘇威」。請問：這個景點最可能是下列何者？ (A)義大利龐貝城 (B)西班牙聖家堂。
11. (A) 柯南是一位火車迷，利用到俄羅斯出差的機會，終於搭上西伯利亞鐵路，他從莫斯科上車一路直達夫拉迪沃斯托克(海參崴)。請問：柯南沿途所看到的植被景觀最主要為下列何者？ (A)針葉林 (B)闊葉林。
12. (A) 歐洲議會是歐盟唯一的直選議會機構，除了常規會議和最終的投票工作在法國的斯特拉斯堡舉行外，其他多數會議均在歐盟總部所在的城市召開。請問：若想要參觀歐洲議會的開會情形，應前往下列哪一個國家？ (A)比利時 (B)義大利。
13. (A) 附表是西元 2018 年中南美洲主要國家的都市化程度比較表。從表中可以看出中南美洲的都市化程度相當高，顯示人口高度集中在大都市。請問：造成此種現象的主要原因為何？ (A)鄉村推力強大 (B)政府政策鼓勵。

國家	都市人口比例(%)
委內瑞拉	88
烏拉圭	95
阿根廷	92
智利	88
巴西	87

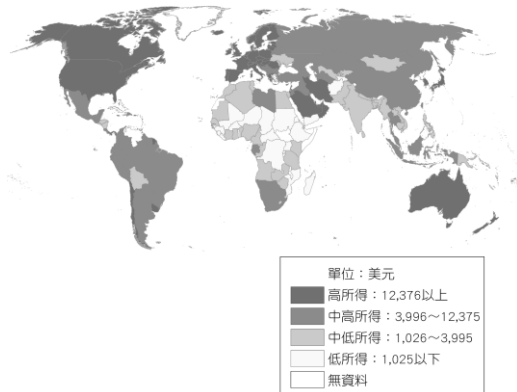
14. (A) 附圖為某區域性組織互惠理念的示意圖，下列哪一個地區的國家為其主要會員國的分布區？ (A)歐洲 (B)北美。



15. (B) 西班牙與葡萄牙位於地控地中海出大西洋的門戶，是開啟歐洲大航海時代的國家，當時的航海家足跡遍布全世界，並在各地建立殖民地，使西、葡兩國成為海上強權。請問：西、葡兩國皆位於附圖中的哪一個半島？ (A)甲 (B)乙。



16. (B) 下圖為世界各國平均國民所得，圖中顯示非洲各國大都處於低度發展程度。請問：造成非洲貧窮問題的背景與下列何者較無關？ (A)長期不公平貿易的機制 (B)農礦資源產量少，不利招商。

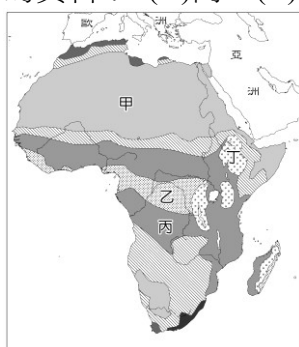


17. (B) 中南美洲雖然呈現多元的人文景觀，但是哪一個原住民的影響既深且廣？ (A)斯拉夫人 (B)印第安人。

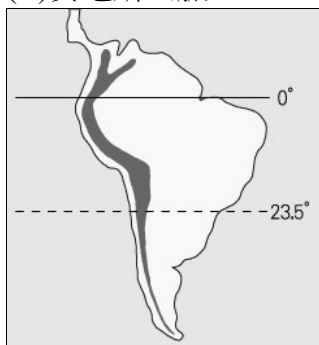
18. (A) 附圖是昔日殖民時期三大洲的三角貿易路線，依據圖中資訊，這些貿易活動的船隻所航行的地區在下列哪一海域？ (A)大西洋(B)印度洋。



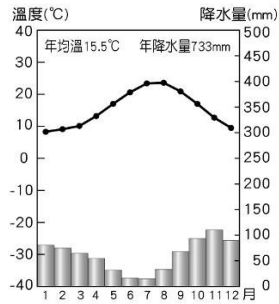
19. (B) 非洲大陸可分為北非與漠南非洲，其中，漠南非洲所指的範圍為何？ (A)蘇伊士運河以南 (B)撒哈拉沙漠以南。
20. (B) 丁丁的地理期末報告想以「地球臉上最大的傷疤」為題，他應該蒐集附圖中哪一個地區的資料？ (A)丙 (B)丁。



21. (A) 下列哪一地理事實與「智利位居南美洲板塊和納茲卡板塊的接觸帶」關係最密切？ (A)地震頻繁 (B)氣候多樣。
22. (A) 肯亞近年來為改善國內經濟，積極發展觀光業，遊客前往肯亞旅遊，不會看到下列哪一項景觀？ (A)絢爛的極光 (B)眾多的牛羚。
23. (B) 臺灣世界展望會自民國 79 年起舉辦「飢餓三十一人道救援行動」，匯集國內各界民眾的愛心，救助非洲地區。請問：下列何者不是非洲急需救助的主要原因？ (A)長期乾旱衍生饑荒 (B)全球暖化導致水患。
24. (B) 附圖為南美洲簡圖。根據資料判斷，圖中南北延伸的色塊是指下列何者？ (A)洛磯山脈 (B)安地斯山脈。



25. (B) 附圖為歐洲某地的氣候圖。從圖中資料研判，該地屬於何種氣候類型？ (A)溫帶海洋性氣候 (B)溫帶地中海型氣候。



26. (B) 咖啡適合生長在年均溫 20°C 左右及年降水量 1,500~2,000mm 的環境，且容易受霜害。若以緯度來看，世界上種植咖啡豆的地區剛好形成一帶狀，稱為咖啡帶(Coffee Zone)，如中南美洲的巴西、哥倫比亞和瓜地馬拉等。請問：下列何者不是這些咖啡生產國的生產特色？ (A)栽種單一作物 (B)高度機械化耕作。
27. (A) 下列哪個國家位於通用英語的北美洲？ (A)美國 (B)巴西。
28. (B) 北美洲西部地區的地形主體為哪一座山脈？ (A)海岸山脈 (B)洛磯山脈。
29. (A) 世界上某些河流因流域大部分位在熱帶雨林氣候區內，水量充沛，再加上部分河段落差大，水力資源十分豐富。下列哪一條河流可以做為實例？ (A)剛果河 (B)尼日河。
30. (A) 「一天之內遭受 14 次龍捲風襲擊！」是美國某日一地方電視臺新聞報導的標題。請問：該電視臺最可能是位於附圖中何處？ (A)丙 (B)丁。

