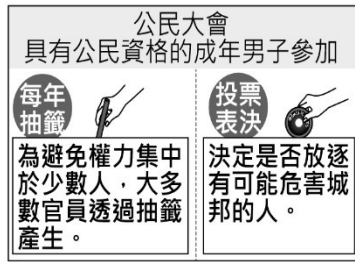


1. () 約西元前 3500 年開始，人類歷史陸續發展出高度文明，如：西亞的蘇美、埃及古王國及中國的殷商時期，下列何者為上述古文明的共同特色？ (A)出現文字 (B)強調一神信仰

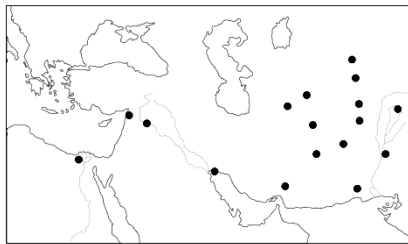
《答案》A

2. () 附圖是呈現某古代文明政治運作特色的示意圖，此古文明最可能是下列何者？(A)雅典 (B)波斯。



《答案》A

3. () 附圖中●處是歷史上某軍事行動後，統治者在征服區所興建的城市。根據分布範圍判斷，此行動最可能是下列何者？



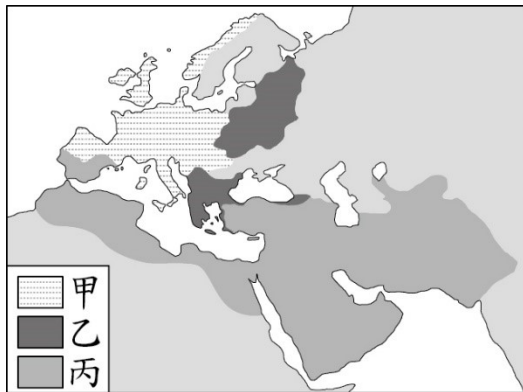
(A)亞歷山大東征 (B)日耳曼民族入侵。

《答案》A

4. () 某一碑文刻有防守帝國疆域的軍團名稱，經研究確認碑文上的軍團分別駐紮於今日英國、西班牙、埃及、敘利亞等地，以及多瑙河、萊因河沿岸。該碑文應是記錄下列哪一帝國的軍團？ (A)二世紀的羅馬帝國 (B)七世紀的阿拉伯帝國

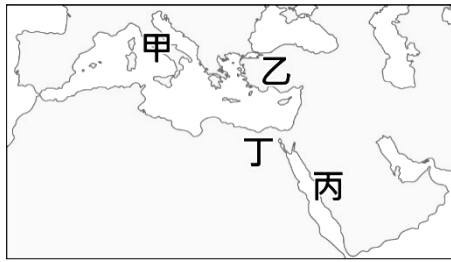
《答案》A

5. () 附圖是十一世紀後期三個宗教的分布示意圖，圖中甲、乙、丙應分別為列何者？ (A)甲：羅馬公教、乙：希臘正教、丙：伊斯蘭教 (B)甲：羅馬公教、乙：伊斯蘭教、丙：希臘正教。



《答案》A

6. () 「西元七世紀，伊斯蘭勢力在此地崛起，之後不斷的向外擴張，使得曾受波斯與羅馬文化影響的地區，在習俗、哲學、法律、政治體系上，開始與伊斯蘭文化相互揉合。」上文中的「此地」，最可能是下圖中甲、乙、丙、丁何地？



(A)丙 (B)丁

《答案》A

7. () 下表呈現某一時期亞洲重要商品的交易情況，根據內容判斷，此一表格最適合用來說明下列何者？

商品	產地	採購者(商人) 所屬地區
香料	南亞、東南亞	中國、歐洲
生絲及絲織品	中國	日本、葡萄牙 西班牙、荷蘭
瓷器	中國	日本、葡萄牙 西班牙、荷蘭

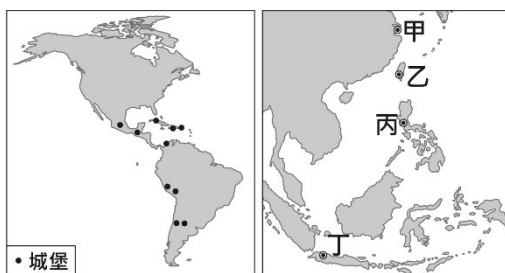
(A)蒙古帝國下的歐亞交流 (B)大航海時代的國際貿易

《答案》B

8. () 從十六世紀哥白尼的「地球繞日說」，到十七世紀伽利略主張「太陽中心說」、牛頓發表「萬有引力定律」，這些學說的提出，在歷史上最可能具有下列何種意義？ (A)試圖用理性態度，了解宇宙的自然法則 (B)強調個性解放，重視人類的情感與直覺。

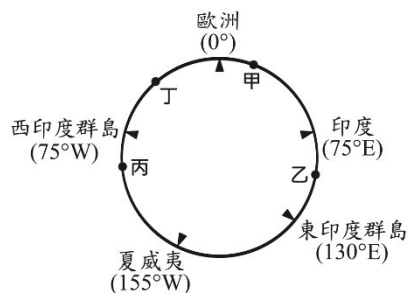
《答案》A

9. () 十六世紀時，這個國家積極向外征服，在其殖民地修築了許多城堡，如左圖所示。當時這個國家也曾在右圖中甲、乙、丙、丁何處建立城堡？ (A)丙 (B)丁。



《答案》A

10. () 十五世紀開始，許多歐洲探險家出海探尋通往亞洲的新航路。圖是十五世紀至十八世紀部分歐洲探險家到達地區的示意圖，其標示方式僅依照這些地區的經度位置排列，而未考慮其緯度位置。狄亞士在西元1487至1488年的探險旅程中到達某洲的最南端，若要在圖中呈現，應標示於何處？ (A)甲 (B)乙



《答案》A

三上歷史補考試題全

一、選擇

5. () 「柯因奈語」(Koine), 又稱「通用希臘語」, 是大約發源於西元前四世紀的國際性語言。此一語言因某帝國在政治上統一了愛琴海地區各希臘城邦, 融合了該地區多種方言發展而成; 其後又伴隨帝國對外武力征服, 向埃及、西亞等地區擴散傳播, 對於往後數百年間科學、文學和宗教的發展影響深遠。上述的「某帝國」, 最可能為下列何者? (A)亞歷山大帝國(D)阿茲提克帝國。

《答案》A

6. () 約西元前 3500 年開始, 人類歷史陸續發展出高度文明, 如: 西亞的蘇美、埃及古王國及中國的殷商時期, 下列何者為上述古文明的共同特色? (A)出現文字 (B)強調一神信仰

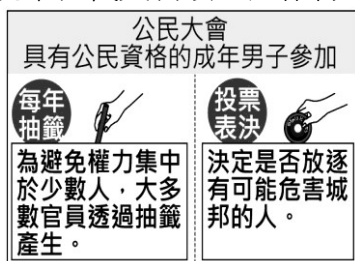
《答案》A

7. () 小倫和小真正在討論歷史上某文明所實行的制度, 如下圖所示。他們討論的主題最可能是下列何者? (A)雅典民主制度 (B)西歐封建制度



《答案》A

8. () 附圖是呈現某古代文明政治運作特色的示意圖, 此古文明最可能是下列何者? (A)雅典



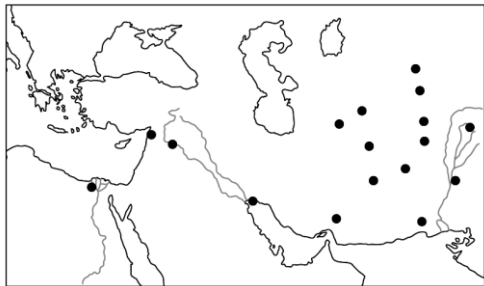
(B)波斯。

《答案》A

9. () 「這個帝國興盛時期, 疆域廣大, 橫跨三洲。皇帝在政治上享有至高無上的權力, 同時在宗教上也是上帝的代表, 可以任命帝國首都主教, 主導教會行事, 而且也常頒布與基督教教義有關的規定。」此一帝國最可能是下列何者? (A)查理曼帝國 (B)拜占庭帝國

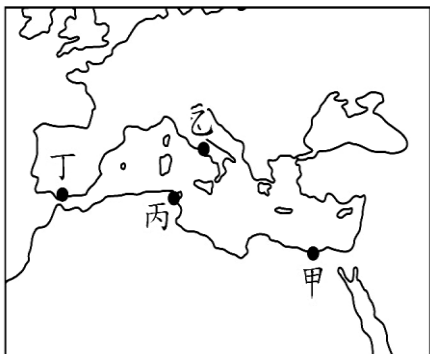
《答案》B

10. () 附圖中●處是歷史上某軍事行動後, 統治者在征服區所興建的城市。根據分布範圍判斷, 此行動最可能是下列何者? (A)亞歷山大東征 (B)日耳曼民族入侵。



《答案》A

11. () 西元前四世紀，亞歷山大創立跨歐、亞、非的帝國，並在其征服的疆域內興建城市。圖中的甲、乙、丙、丁，何者最可能是他所興建的城市？ (A)甲 (B)乙



《答案》A

12. () 某一碑文刻有防守帝國疆域的軍團名稱，經研究確認碑文上的軍團分別駐紮於今日英國、西班牙、埃及、敘利亞等地，以及多瑙河、萊因河沿岸。該碑文應是記錄下列哪一帝國的軍團？ (A)二世紀的羅馬帝國 (B)七世紀的阿拉伯帝國

《答案》A

9. () 以下是某旅遊雜誌的介紹：「菩提迦耶的大菩提寺興建於西元前三世紀，原為釋迦牟尼悟道之處。十三世紀時，伊斯蘭軍隊攻占此地，大肆破壞。直到十九世紀後期，英國殖民政府官員透過古代中國僧侶的遊歷著作，以及相關史料，發掘被掩埋的文物，復原大菩提寺的面貌。」上述旅遊雜誌介紹的地點最可能位於下列何處？(A)緬甸 (B)印度

《答案》B

10. () 圖(六)是書上的漫畫，依其內容判斷，最可能是介紹下列哪一個古文明？

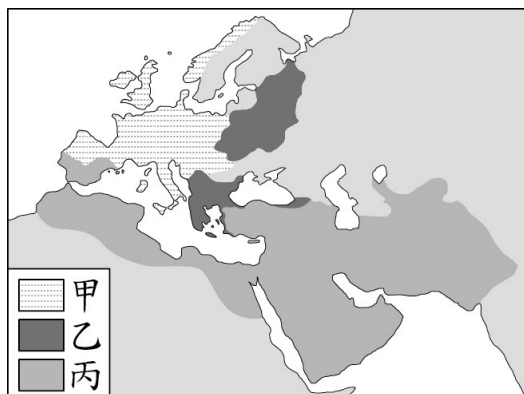


圖(六)

(A)印度(B)埃及

《答案》A

11. () 附圖是十一世紀後期三個宗教的分布示意圖，圖中甲、乙、丙應分別為下列何者？
(A)甲：羅馬公教、乙：希臘正教、丙：伊斯蘭教 (B)甲：羅馬公教、乙：伊斯蘭教、丙：希臘正教。



《答案》A

12. () 圖是某史事的起源地區與傳播方向示意圖，下列何者最足以呈現該史事的內涵？
 (A) 研究古典文獻，強調人文主義 (B) 路德教派改革，主張因信得救



《答案》A

13. () 十六世紀時，馬丁路德批判羅馬教會，揭開宗教改革的序幕。下列資料中何者最可能是馬丁路德的主張？

- (A) 你們從我主耶穌基督的代理人那裡得到了贖罪券，你就能夠完全獲得赦免。
 (B) 靈魂獲得赦罪不需仰賴神職人員，只需要《聖經》，而《聖經》的領會只能依靠信仰。

《答案》B

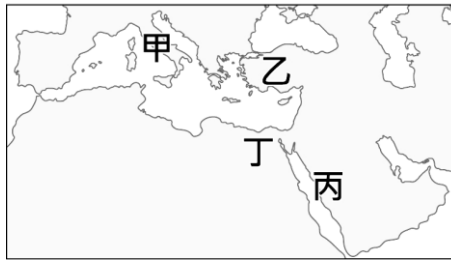
14. () 下圖是某一帝國的疆域演變圖。甲區成為該帝國領土，與下列何者關係最為密切？



- (A) 拜占庭帝國的衰亡 (B) 亞歷山大帝國的崛起

《答案》A

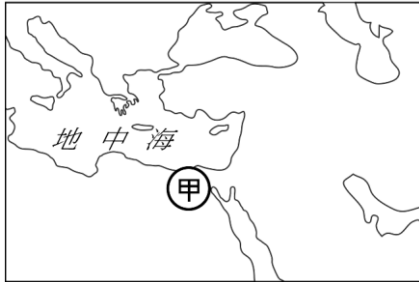
15. () 「西元七世紀，伊斯蘭勢力在此地崛起，之後不斷的向外擴張，使得曾受波斯與羅馬文化影響的地區，在習俗、哲學、法律、政治體系上，開始與伊斯蘭文化相互揉合。」上文中的「此地」，最可能是下圖中甲、乙、丙、丁何地？



(A)丙 (B)丁

《答案》A

16. () 下圖甲處自西元前四世紀至西元七世紀，官方使用的文字因外來統治者改變而有所不同，這些官方文字使用時間的先後順序最可能是下列何者？



(A)希臘文→拉丁文→阿拉伯文 (B)希臘文→阿拉伯文→拉丁文

《答案》A

17. () 下表介紹歐洲某一文化潮流的背景與特色，表中的□最適合填入下列何者？

(A)方言文學的興起 (B)印象畫派的流行

起源地	義大利北部
背景	<ul style="list-style-type: none"> 與拜占庭、伊斯蘭世界貿易交流。 城市的發展及市民階級的崛起。 銀行家、富商對藝文活動的贊助。
特色	<ul style="list-style-type: none"> 重新發現古典文化的價值。 繪畫、雕刻等藝術的創新。 □

《答案》A

18. () 秧秧至某城市旅遊，發現此城市曾歷經亞歷山大帝國、羅馬帝國、阿拉伯帝國、鄂圖曼土耳其帝國的統治。秧秧最可能至下列哪一城市旅遊？ (A)埃及 開羅 (B)希臘 雅典

《答案》A

19. () 阿娟參加旅行團到某城市觀光，拿到了如下的旅遊簡介：「此城市地理位置優越，既連接兩大洲，又位居黑海通往地中海航道的必經之地，曾經先後作為兩個大帝國的首都長達一千六百多年之久。城內有著拜占庭帝國所修築的古城牆、鄂圖曼土耳其帝國華麗的皇宮，以及宏偉的基督教教堂與清真寺等文化遺產，展現了這座城市輝煌悠久的歷史。」根據內容判斷，阿娟到訪的城市最可能是下列何者？(A)耶路撒冷 (B)伊斯坦堡

《答案》B

20. () 附圖描繪某一重要史事演變及擴展的過程，根據年代與分布範圍的改變判斷，此圖片的主題最可能是下列何者？ (A)基督教的傳播 (B)日耳曼民族的遷徙



《答案》A

21. () 下表呈現某一時期亞洲重要商品的交易情況，根據內容判斷，此一表格最適合用來說明下列何者？

商品	產地	採購者商人 所屬地區
香料	南亞、 東南亞	中國、歐洲
生絲及 絲織品	中國	日本、葡萄牙 西班牙、荷蘭
瓷器	中國	日本、葡萄牙 西班牙、荷蘭

(A)蒙古帝國下的歐亞交流 (B)大航海時代的國際貿易

《答案》B

22. () 「這個國家有著多處世界文化遺產，包括馬雅文明的城市遺址、阿茲提克帝國神廟遺跡、西班牙殖民時期重要銀礦區，和多座壯麗的天主教教堂及修道院。」此一國家最可能是下列何者？ (A)秘魯 (B)墨西哥。

《答案》B

23. () 下表(五)為 1514 至 1800 年黑奴被販運到主要三大洲的統計數據。乙最可能是下列哪一洲？ (A)美洲 (B)亞洲

洲別 時間	甲	乙	丙
1514-1600年	652	58,75	168
1601-1700年	4,16	645,4	847
1701-1800年	4,51	4,569	2,65

單位：人

《答案》A

24. () 從十六世紀哥白尼的「地球繞日說」，到十七世紀伽利略主張「太陽中心說」、牛頓發表「萬有引力定律」，這些學說的提出，在歷史上最可能具有下列何種意義？
(A)試圖用理性態度，了解宇宙的自然法則 (B)強調個性解放，重視人類的情感與直覺。

《答案》A

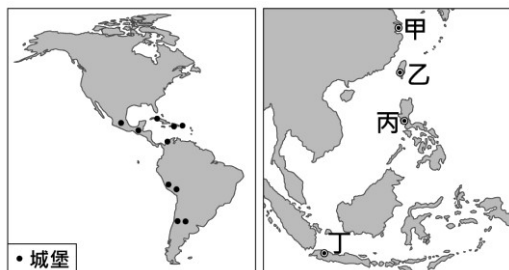
25. () 2018 年的「世界音樂節@臺灣」邀請了世界各地的音樂團體來臺演出，其中來自厄瓜多的樂團帶來安地斯山風情的音樂，讓我們可以藉此欣賞該國的文化特色。上述文化特色最可能為下列何者？ (A)中東新樂曲 (B)印加傳統音樂

《答案》B

26. () 以下是旅遊書對某座教堂的描述：「十六世紀上半葉，西班牙人在昔日印加帝國神廟打磨精美的石頭基座上，建造宏偉的聖多明哥教堂。」文中的教堂最可能位於現今哪一國家？ (A)古巴 (B)秘魯

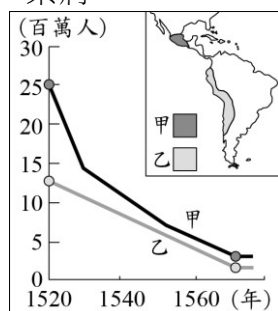
《答案》B

27. () 十六世紀時，這個國家積極向外征服，在其殖民地修築了許多城堡，如左圖所示。當時這個國家也曾在右圖中甲、乙、丙、丁何處建立城堡？ (A)丙 (B)丁。



《答案》A

28. () 附圖呈現某時期甲、乙二地原住民人口數量估計值的變化。造成此變化的原因最可能是下列何者？ (A)拉丁美洲獨立運動引發列強的征討 (B)西班牙人入侵，帶來戰爭與傳染病

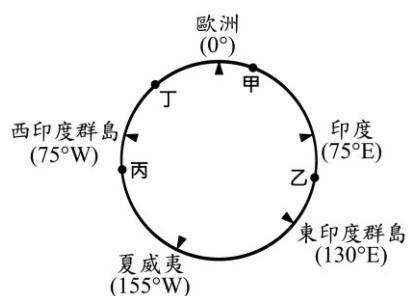


《答案》B

29. () 這個國家仿效羅馬帝國擴張的模式，在各個征服地區建立城市，作為行政、軍事和經濟中心：部分征服地區是以既存的城市為基礎，如墨西哥城；多數征服地區則是建立新的城市，城內有著規則的街道網絡，如位於加勒比海的聖雅各騎士城(今多明尼加共和國境內)，及中美洲的瓜地馬拉城等。這個國家最可能是下列何者？ (A)十六世紀的西班牙 (B)十九世紀的美國。

《答案》A

30. () 十五世紀開始，許多歐洲探險家出海探尋通往亞洲的新航路。圖是十五世紀至十八世紀部分歐洲探險家到達地區的示意圖，其標示方式僅依照這些地區的經度位置排列，而未考慮其緯度位置。狄亞士在 1487 至 1488 年的探險旅程中到達某洲的最南端，若要在圖中呈現，應標示於何處？ (A)甲 (B)乙



《答案》A