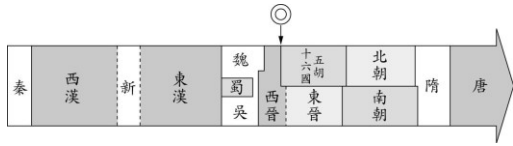


二上歷史補考卷全

1. () 中國歷史上朝代的更迭，各有其原因，而附圖中西晉演變成五胡十六國和東晉局面，與下列哪個事件的關係最密切？ (A)永嘉之禍 (B)犬戎入侵

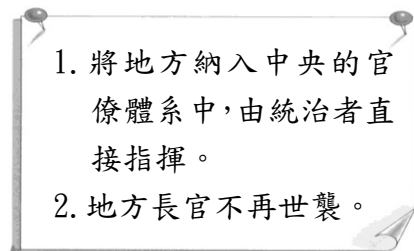


《答案》A

2. () 小明在查找資料時，看到一段文字：「雖然中國最早在《詩經》裡就有野葡萄的記載，可知古人已知道採集並食用各種野葡萄了。但直到漢武帝時期，著名的大探險家出使西域時，從大宛帶來了歐亞種葡萄與釀酒師，中國人才開始對葡萄酒有進一步的認識。葡萄酒在中國古代被叫作『蒲陶酒』，詞源即可能為古希臘語發音的轉譯。」請問：從這段文字可知，這位探險家在歷史上的貢獻，主要是在哪一方面？(A)文化交流 (B)科技發展。

《答案》A

3. () 附圖是阿平在某堂歷史課所做的筆記，根據筆記的內容，請問該堂課的主題最有可能為下列何者？



(A)封建與郡縣的差別 (B)郡縣制度的特色。

《答案》B

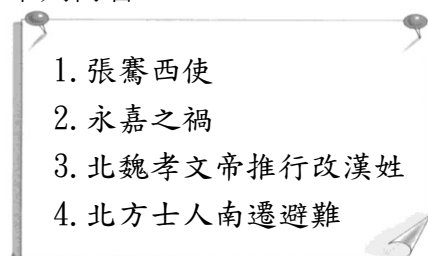
4. () 小蓉在介紹某位君主的政績時，用了下列圖片來說明。根據圖中內容判斷，這位君主應



是下列何者？ (A)齊桓公 (B)秦始皇

《答案》B

5. () 下圖是喬喬在某堂歷史課所做的筆記，根據筆記的內容，請問該堂課的主題最有可能為下列何者？



(A)中國史上的胡漢衝突 (B)中國史上的民族互動

《答案》B

6. () 附圖為中國兩個朝代的興起示意圖，甲、乙分別代表中國的兩個朝代，請問：下列敘述何者正確？ (A)甲朝代的出現早於乙朝代 (B)乙朝代滅亡原因是人民內亂



《答案》B

7. () 東周時代的一位大臣如此說道：「社稷的祭祀者並不一定就非得是某姓某族，君臣關係也不會一成不變。自古以來就是這樣的。就像《詩經》上說，高岸變成山谷、深谷變成高山那樣，所有亡國公族和衰落貴族的後代，如今都變成了平民。」請問：是怎樣的時代背景令他有此番言論？ (A)封建制度逐漸瓦解 (B)部落聯盟逐漸成形

《答案》A

8. () 周王室東遷後，身為王室成員的小宜，發現此時的生活與在之前首都的生活大不相同。請問：小宜將會感受到哪些「大不同」呢？ (A)人人仰望周天子，無人不聽其號令 (B)諸侯起而稱霸，周天子無實質權力

《答案》B

9. () 一位到中國留學的日本僧人記錄道：「在大臣韋宗卿獻上佛教的涅槃經後，皇帝表示，佛教來自於西戎，傳布的乃是不生之說，中國的百姓受其影響已久。你作為衣冠望族，不向黎民百姓宣揚聖人孔子的思想，扼止迷信，反而耽溺於佛教，甚至匯集那些妖妄之言以迷惑愚人，難道不感到慚愧嗎？」請問：這位日本僧人最有可能是何時到中國的哪個朝代？(A)漢朝 (B)唐朝。

《答案》B

10. () 「乍看之下，倚靠血統的世族和透過科舉選拔的官僚應該是相互對立的，但事實上，唐代的世族積極參與科舉考試，而且當時的社會重視家世出身與貴族教養的風氣並沒有什麼太大的改變。」請問：我們應當如何理解這段話？ (A)科舉制度是唐代世族急速沒落的主因 (B)唐代的世族仍試圖透過新的選才制度維持地位

《答案》B

11. () 十六至十八世紀，明清帝國與歐洲商人的貿易轉趨頻繁，中國被納入世界貿易體系之中。這段時期的國際貿易，有著怎樣的特色？(A)與歐洲的貿易中，曾以日本為轉口貿易 (B)導致貨幣大量外流，明清帝國的經濟愈來愈糟。

《答案》A

12. () 雙方達成停戰協議，協定宋每年輸遼歲幣銀十萬兩、絹二十萬匹，即「歲幣」，遼聖宗稱宋真宗為兄，宋真宗稱遼聖宗為弟，稱蕭太后為叔母，互約為兄弟之國。請問：這是指哪個協議？ (A)南岬之盟 (B)澶淵之盟

《答案》B

13. () 西元後第一個千年來臨時，宋朝是世界上最富庶的國家，擁有當時最大的都市，同時在文化上也邁向高峰。然而宋朝政府始終為財政問題所擾，即便對人民課徵的稅收已經調高到不能再高了，複雜的國際情勢卻使得守衛邊境的軍費居高不下。請問宋朝的外患主要是來自何方？(A)南方 (B)北方。

《答案》B

14. () 《儒家思想發展史》一書中提到，儒家思想在中國的傳遞，曾經歷過幾次的轉變：「最初在百家爭鳴的時代，儒家思想被認為是不切實際的。二變於獨尊儒術時，國家以儒家經典的通曉與否來任用人才。三變為儒家形成家學，構成日後的世族政治。四變是儒家經典成為考試規定訂本，原先活潑的儒家經典成為了單一的解釋，僵化了富有創造力的古代中國。」請問：文中的第四個階段，最可能是中國哪個朝代之後的事？(A)宋 (B)元。

《答案》B

15. () 有一則評論：「對其在漢人的領地相當重視，並且花時間去了解漢人的治國思想和儒家文化，最終以自己的領地為中心，建立起一個漢式的行政中心，其後在試圖爭取橫跨歐、亞兩洲大帝國統治權的同時，一直沒有放棄嘗試讓漢人接受他作為一個中國皇帝，並為此做了一系列漢化努力，這些做法有效的吸引了漢族謀士和儒生參與帝國的新政權。」請問：上述是對何人的評論？(A)忽必烈 (B)北魏孝文帝。

《答案》A

16. () 有學者認為，契丹與女真這兩個草原民族提供了寶貴的歷史經驗，使蒙古帝國得以順利整合草原、農業與城市，成為一個有著巨大版圖的多元複合國家。換句話說，該學者認為蒙古帝國的統治策略曾受到以下何者的啟發？ (A)遼國 (B)西夏

《答案》A

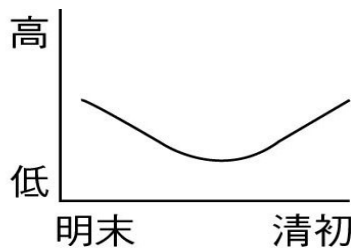
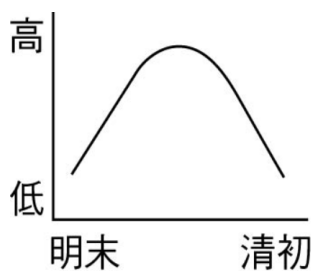
17. () 蒙古帝國在發動三次西征期間，還消滅了兩個國家，建立橫跨歐、亞的龐大疆域。請問：在三次西征期間被蒙古所滅的為哪兩個國家？ (A)金、西夏 (B)遼、金

《答案》A

18. () 老師要同學畫出「明末清初時期，中國海外貿易發展示意圖」。下列哪一位同學畫的最符合史實？

(A)小楓

(B)小新



《答案》B

19. () 歷史老師上課時製作了一張某朝代的知名歷史人物表，如下所示，以向學生解釋當時的人口流向發展。請問：表中該朝代人物大都來自北方省分與下列何事相關？
(A)靖康之禍 (B)蒙古帝國建立。

人物	成就	祖籍
李清照	詞人	山東省
辛棄疾	詞人	山東省
岳飛	軍事將領	河南省
韓世忠	軍事將領	陝西省

《答案》A

20. () 史書中曾這樣記載地瓜：「俗名番薯，有紅、有白，生、熟皆可食，可治渴、可濟饑，可釀酒做粉。萬曆中，閩人得之外國，凡瘠土沙礫之地皆可種。」請根據這段文字推測，下列哪一個敘述最為正確？ (A)因地瓜耐旱，緩解了中國糧食不足的問題，促使人口增加 (B)地瓜的引入是中國西餐的開端

《答案》A

21. () 近代中國的第一所女子學校，是由英國傳教士所創立的寧波女塾，該校校訓中寫有「女子為民之母，欲陶冶健全國民根本，須提倡女教」，反映出西方傳教士對於女性受教育的

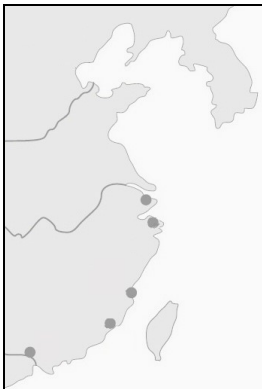
重視，也影響了日後中國女學的興起，不過中、西方對於「興女學」的目的上有所不同。請問：從該校訓中可以看出，西方傳教士鼓勵女子受教育的原因為何？ (A)重視倫理道德 (B)提高女子地位。

《答案》B

22. () 有位學者說：「八國聯軍中，日本在處理軍事和國際關係方面的公正態度贏得了中國的信任，於是在中國想避免西方侵略、日本想遏制西方滲透的情況下，日俄戰爭前後出現了『中日外交的黃金時代』，日本透過軍事、警務、教育方面的領導，直接參與了清政府的改革。」請問：該學者所說的「改革」當指以下何者？ (A)戊戌變法 (B)庚子後新政。

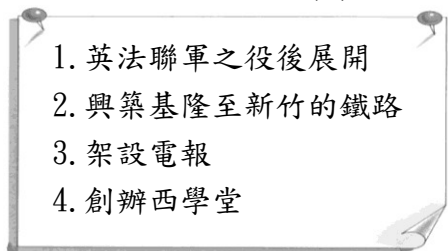
《答案》B

23. () 潘因是清末往返歐洲與中國貿易的洋商。受到當時的政治局勢影響，他的貿易範圍如附圖所示。下列何者是潘因有可能出現的生活體驗？ (A)到臺灣進行貿易時須經由日本政府同意(B)若不幸有貿易糾紛可不受中國法律管束。



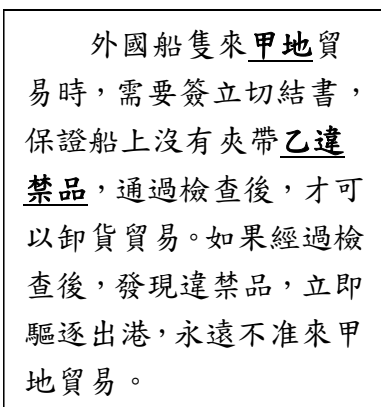
《答案》B

24. () 附圖是寧寧在某堂歷史課所做的筆記，根據筆記的內容，請問該堂課的主題最有可能為下列何者？ (A)西力衝擊下的晚清政治制度變遷 (B)臺灣建省與自強運動的推動



《答案》B

25. () 附圖是一八三〇年代中國皇帝批准的奏摺，請問：甲地和乙違禁品分別為下列何者？ (A)廣州；鴉片 (B)廣州；茶葉。



《答案》A

26. () 西元 1861 年時，清朝看來似乎氣數已盡——由廣西人洪秀全帶頭掀起的內亂已經延續十

年，整個長江流域都陷入戰火，人命傷亡及財物損失都相當慘重；英法聯軍則占領了北京，迫使清廷接受不平等條約。不過之後清廷展開一系列的政策調整，政府的勢力開始重振，史稱「同治中興」。請問：下列敘述何者正確？ (A)此時期所推行的政策統稱為「明治維新」 (B)此時期著重在仿效西方器物與技藝

《答案》B

27. () 清末時，有人賦詩吟詠某都市的生活：「每過七天的禮拜日便是休息的日子，各行各業停止了工作，人們有的到教堂去聽傳教士講道，有的則滿大街的嬉戲著。」請問：詩中吟詠的「某都市」最有可能為下列何者？ (A)洛陽 (B)上海。

《答案》B

28. () 清末一部名為《清稗類鈔》的書籍，有以下紀錄：「東方人常食五穀，西方人常食肉類。食五穀者，其身體必遜於食肉類之人，食葷者，必強於茹素之人。故飲食一事，實有關於民生國計也。吾國人苟能與歐美人同一食品，自不患無強盛之一日。」請從上文內容來判斷作者對西餐的態度為何？(A)支持，認為西餐比中餐更能強身健體 (B)反對，認為中餐文化比西餐更優雅高貴。

《答案》A

29. () 《新民叢報》的「新民」二字，出於《尚書·康誥》。在戊戌變法失敗後，他逃亡日本倡導「新民」，目的是要培養適合於時代需要的新國民。請問：這位辦理《新民叢報》的主編，最可能在報中提出哪種論點？(A)擁立光緒皇帝 (B)支持革命運動。

《答案》A

30. () 一份香港報刊報導：「五月中旬，有幾艘花旗國的船，從上海開往日本國，希望可以打通貿易，並要求日本國王准許他們設立貯存煤礦的地方，作為船的中繼站，以便花旗國與中國往來。」依據這則報導推測，這是在描述下列哪一個歷史事件？ (A)十九世紀時，為求貿易利益，美國以武力要求日本開放鎖國 (B)鴉片戰爭後，英國殖民香港，並希望獲得日本的重要港口城市。

《答案》A