

1. (A) 圖是某一文件的部分內容，此文件最可能是下列何者？

(A)日本給臺灣民主國的勸降書 (B)法軍將領給清廷的戰帖。

大清皇帝已割讓臺灣及澎湖群島，並派欽差大臣與本總督完成授受之約。故本總督乃坐鎮臺北，安撫民眾，遂行統治。今得知您占據臺南，外無援兵，孤軍頑抗，……您若能體察大清皇帝聖旨，應立即停止抵抗，讓民眾免於戰火之苦。

2. (A) 圖為某時期日本在臺灣發布的告示，此告示最可能與下列何者有關？

(A)臺灣民主國 (B)臺灣民眾黨。

本總督已與清國（清朝）欽差完成交接，從此之後，臺灣全島及澎湖列島已屬我國版圖。然而，前臺灣巡撫竟慫恿在臺灣的清兵，反抗我國。在本總督掃蕩之下，該巡撫已經逃回福建，但潰敗的清兵，仍四處逃竄，嚴重威脅治安。現在本總督施恩赦免，將派遣船隻，把願意投降的清兵送回清國。若仍冥頑抵抗，絕不寬恕。

3. (B) 以下是一位外國記者對臺灣的記錄：「在插滿了新國旗的建築物內，擠入了許多情緒高昂的人們。新國旗以藍色為背景，中間有隻黃色老虎，尾巴翹得半天高；官員與群眾燃放鞭炮互相打氣。……直到日本軍艦在沿岸偵察的消息傳來，群眾像被潑了盆冷水般紛紛走避，官員則退入房內商量對策。這時大家才發現，想要爭取建立新的政權，除了升旗、放鞭炮以外，還有其他更重要的事情要做。」上述內容與下列何者最為相關？ (A)中華民國退出聯合國 (B)《馬關條約》的簽署

4. (B) 附圖為某雜誌上刊載的紀念戳章及其簡介，根據內容判斷，此紀念章最可能是描繪下列何時臺灣的景象？ (A)荷蘭統治時期 (B)日本統治時期。




5. (B) 附表是臺灣某時期官方書籍所推薦當時北部地區參訪地點的整理，根據內容判斷，表中的「？」最可能是下列何者？ (A)臺灣省政府 (B)臺灣總督府。

參訪地點	性質
國語學校	教育機構
臺北郵便局 (郵局)	通訊機構
臺灣神社	統治象徵
？	最高統治機關

6. (B) 二十世紀初期，霍亂、瘧疾等傳染病在臺灣相當普遍，對當時政府而言，防治傳染病是刻不容緩的議題。下列何者是當時官方及民間採行的措施？
(A)政府實施全民健康保險 (B)保甲要求居民定期清潔環境。
7. (B) 以下內容出自於一位臺灣人的受訪紀錄：「在那個時代，我先是接受政府徵調當了日本兵，到廣東打中國兵；隨著戰爭的結束，我又當了中國兵，到東北打共產黨，但這都不是自己的選擇，是時代的悲哀。」這位臺灣人所描述的應是他在下列何時的遭遇？(A)1900年代 (B)1940年代
8. (A) 某時期臺灣官方公布彩票發行辦法，彩票採公開搖獎，開獎次日將中獎號碼刊登於報紙上，中獎者持票向臺灣銀行兌換彩金。此一彩票制度專為殖民地設計，銷售對象以臺灣民眾為主，也企圖吸收中國、華南地區的資金。當時公布發行辦法的官方機構，應是下列何者？(A)臺灣總督府 (B)臺灣省政府
9. (B) 某雜誌對臺灣當時的鐵路建設有以下描述：「目前已修築完成的鐵路，路線包括：一、從基隆經臺北、新竹到中港(今竹南)，二、從大稻埕、臺北到淡水，三、從嘉義經臺南到打狗等。至於中港到嘉義間，由於需跨越多條河流，工程尤其困難，但預計在幾年後，就可以貫通臺灣南北。」雜誌的描寫，其時間點最可能在下列哪一時期？
(A)荷蘭統治時期 (B)日本統治時期。

10. (B) 附圖是臺灣史上的一份官方文件，此文件發布的時代背景最可能是下列何者？

(A)《馬關條約》簽訂，日本統治臺灣 (B)國共內戰失利，中華民國政府遷臺



11. (B) 下列是臺灣某時期對於訂定街道名稱的規定，根據內容判斷，頒布此一規定的最可能是下列何者？ (A)臺灣府 (B)臺灣省行政長官公署

一、街道名稱具有紀念日本人物、展現日本國威、明顯為日本名稱者，應予改正。

二、新街道名稱應具有下列意義：

- 發揚中華民族精神：信義路、和平路等。
- 宣傳三民主義：三民路、民權路等。
- 紀念國家偉大人物：中山路等。

12. (B) 下列為臺灣某份刊物上刊載的文章：

今日針對普及衛生思想，監督指導的單位須以身作則，首先應喚起市街庄行政人員的自覺，有效配合地方上保甲的力量。此外，藉由小學校、公學校對衛生教育的提倡、社會上報章雜誌的宣傳，來提升民眾的衛生意識。

根據內容判斷，此段文章主要在討論下列何者？

(A)荷蘭聯合東印度公司推動衛生教育

(B)日本統治時期，政府與民間推廣公共衛生觀念。

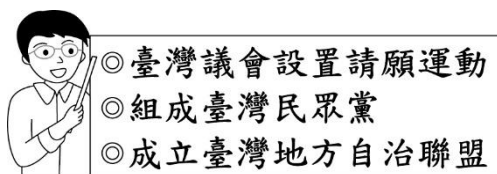
13. (B) 人物的日記、書信、回憶錄及口述訪談等，往往被視為歷史研究的重要資料。

若欲透過事件參與者的觀點，來了解日本統治時期臺灣的政治、社會運動情況，下列何者最為合適？(A)《雷震回憶錄》(B)蔣渭水〈入獄日記〉

14. (B) 附圖是臺灣某一時期報紙刊載的徵人啟事。根據內容判斷，這最可能是下列何時的報紙？ (A)1860 年代 (B)1930 年代

徵求護士學徒 限內地人 高等小學校畢業以上程度 攜帶履歷面談 臺北帝國大學附屬醫院	【徵人啟事】 徵求服務生 年齡十七至十八歲 小學校、公學校畢業 有意者請攜帶履歷表前來 卅日下午六時面談 牡丹咖啡店
---	---

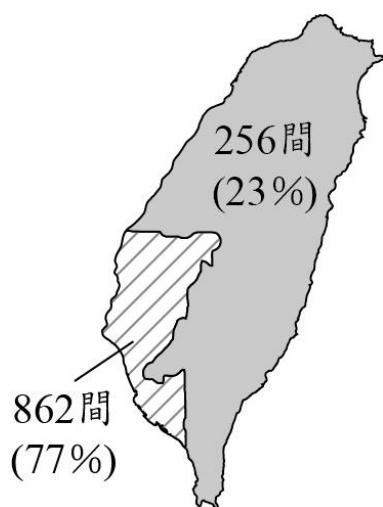
15. (B) 附圖是老師列舉的臺灣某時期社會運動，它們共同的訴求最可能是下列何者？
(A)號召民眾扶清抗日 (B)爭取政治參與權利。



16. (A) 附表是歷史上某人在臺灣旅遊的部分行程，依內容判斷，此人最可能是下列何者？ (A)日本統治下訪臺的國會議員 (B)荷蘭 聯合東印度公司的駐臺牧師。

時間	地點	參觀行程
2/22 至 2/23	臺南	孔廟、赤崁樓、嘉南大圳
2/23 至 2/24	高雄	西子灣海水浴場、臺糖製糖廠
2/24	屏東	鵝鑾鼻燈塔
2/27	臺北	紅毛城、英國領事館

17. (B) 附圖為 1902 年臺灣某種主要出口商品的加工場所數量分布示意圖，根據其分布情形判斷，此種出口商品最可能為下列何者？ (A)茶葉 (B)蔗糖。



18. (B) 附表是臺灣某位官員任內的重要事蹟，根據內容判斷，此人當時最可能擔任下列哪一職務？

事 蹟
1. 設置研究機關，從事產業與衛生的科學研究，以及熱帶地區各類調查。
2. 鋪設臺北、臺中、嘉義等地主要市街的自來水管。
3. 架設臺北、淡水至長崎間的電信纜線。
4. 西部縱貫鐵路全線通車。
5. 公布臺灣農會規則。

(A)臺灣巡撫

(B)臺灣總督

19. (B) 附表是某年國外報紙針對臺灣當時情況的專題報導摘錄：

政治 社會	1. 禁止人民參政，政府的重要職位，被首長的親信占據。 2. 許多新任的官員，與公務上慣用日語的臺灣人無法順利溝通。 3. 社會秩序混亂，兒童綁架案頻傳。
民生 經濟	1. 臺灣物資大量運往中國，造成物資短缺。 2. 臺灣的物價比第二次世界大戰期間還高出數倍，如：稻米從每斤 4 元漲到每斤 18~20 元、煤從每噸 240 元漲到 2,000 元。政府以每擔 130 元強制收購蔗糖，但民眾卻要以每擔 3,000 元購買。

根據上表資料，最能夠幫助我們理解下列哪一事件發生的歷史背景？

(A)美麗島事件

(B)二二八事件

20. (B) 臺灣某一時期，經濟政策朝向發展技術、資本密集且具有高附加價值的高科技產業，政府成立資策會，大量延攬海內外學人，將資訊、光電及生物科技等列為發展重

點，擬定國家科技發展計畫，帶動近年來高科技產業的發展。為配合此政策，政府還推行了下列哪一措施？ (A)實施十大建設 (B)成立新竹科學工業園區。

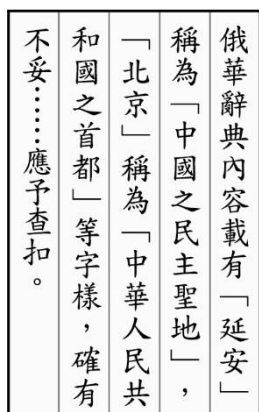
21. (B) 附圖是一幅歷史照片與說明，圖說人物曾兩度被俘。依據說明，此人最可能先後被下列何者所俘？ (A)日本、中國國民黨 (B)中國共產黨、美國。



22. (B) 圖為臺灣一份報紙的頭版標題，下列何項政策的施行與標題的公告關係密切？ (A)推廣公地放領 (B)開放人民組織政黨。



23. (B) 附圖呈現某時期中華民國政府對於一本辭典的審查結果，根據圖片內容判斷，此辭典最可能是在下列何時接受政府單位的審查？ (A)日本統治時期 (B)臺灣戒嚴時期。



24. (B) 日治時期首任總督樺山資紀，在臺任職兩年。西元 1895 年，民間曾經流傳過一幅名為「劉大將軍擒獲倭督樺山資紀斬首全圖」的畫作，我們應該如何運用歷史思維進行解讀？

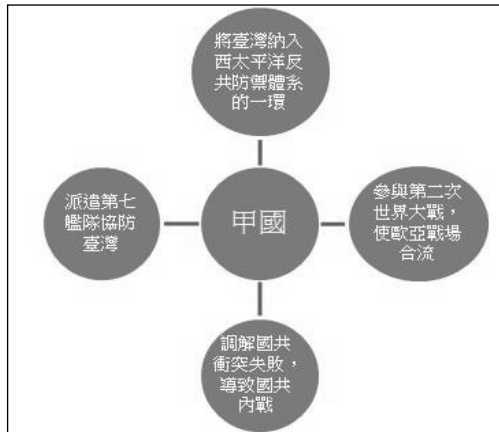
(A)此圖既然出現在西元 1895 年，所以此圖內容必為真實

(B)此圖內容雖不符合歷史事實，但是反映出當時群眾的心態。



25. (A) 「□□在日本本土被嚴格禁止，在臺灣卻實施專賣，且維持 48 年之久，讓總督府大賺一筆，因而遭到知識分子的批評。」上述的□□中應填入何者？
(A)鴉片 (B)酒精。
26. (A) 西元 1928 年，總督府設立臺北帝國大學，初設文政及理農兩部，其後，增設醫學部、工學部。至西元 1943 年，畢業生計有臺人 161 人，日人 677 人。其中，文政學部臺人 45 人，日人 277 人；理農學部臺人 37 人，日人 303 人；醫學部臺人 79 人，日人 97 人。此外，至西元 1945 年，醫學部畢業生計臺人 130 人、日人 145 人。由以上數據內容判斷，下列敘述何者正確？
(A)從畢業生組成可看出教育政策的差別待遇
(B)此大學設立後，到日本升學的臺生大幅減少。
27. (B) 西元 2019 年 12 月 10 日《蘋果日報》刊出將近四十頁的〈民主之春〉專刊，引發群眾熱議與購買，該專刊肯定四十年來人民追求民主自由的價值，僅以專刊向當年創刊雜誌社及追求人權的黨外人士致敬。西元 1979 年，該雜誌社在國際人權日當天於高雄舉辦紀念活動，遊行過程中發生軍警與人民之間的衝突，幾天後臺灣警備總司令部以「涉嫌叛亂」為由逮捕相關人士 14 名，引起國際關注臺灣的民主政治發展，在國際壓力下，迫使政府不得不公開該案件的軍事審判……。《蘋果日報》的〈民主之春〉專刊是為了紀念哪一事件？
(A)二二八事件 (B)美麗島事件。
28. (A) 某本書寫著：「甲國的介入，深深影響著二十世紀下半葉東亞各國的互動關係。」書上列有甲國所參與的歷史事件，如下圖所示。依你的歷史知識判斷，甲國應為

下列何國？(A)美國 (B)日本



29. (A) ICRT 是目前臺灣頗富知名度的電臺，其播放的熱門音樂，為喜愛美國流行文化的人士所熱愛。ICRT 的前身為美軍在臺電臺，反映其成立時，我國與美國有著緊密的官方軍事合作。請問：ICRT 最早有可能何時即存在？
(A)韓戰爆發後 (C)我國退出聯合國後。
30. (B) 新聞報導：「正訪問臺灣的美國國務院副助卿孫曉雅(Sandra Ouderkirk)表示，美國自由開放的印度太平洋地區願景，在臺灣實施的政策中得到響應，美國將臺灣視為在自由開放的印度太平洋地區共同願景中的合作夥伴。她讚許臺灣是積極負責的區域夥伴，在區域中扮演關鍵角色，美國期待與臺灣持續合作。」從上述報導中分析，美國國務院副助卿讚許的是臺灣政府目前積極推動的哪一項政策？
(A)三不政策 (B)新南向政策。