

蘭潭國中社會領域-地理科二年級下學期補考題庫卷

一、選擇


1. (B) 日本地震頻繁，且有火山地形，境內第一高峰「富士山」就是一座活火山，推測應與何項因素有關？ (A)緯度橫跨廣 (B)處板塊交界。
2. (B) 西亞與北非多數國家石油產量均相當高，因此於一九六〇年代組成哪一個組織，企圖掌握石油利益的主導權？ (A)ASEAN (B)OPEC。
3. (B) 伊斯蘭教對飲食有多種限制，為避免穆斯林誤食或誤用不合教義的食品或產品，故發展出「清真認證(Halal)」以方便辨識。請問：下列哪一項食品最不可能取得清真認證？ (A)三杯雞 (B)豬血糕。
4. (A) 查看日系品牌電器的製造標籤，會發現有許多產品其實是在泰國製造，如大金冷氣機。請問：日本公司到泰國設置工廠的主要因素為何？ (A)薪資便宜 (B)礦產豐富。
5. (A) 這座城市就是「和平之城」，在歷史學家的眼中，它是一座擁有 3500 年悠久歷史的古城，在宗教家眼中，它是三大宗教教徒心馳神往的聖地；在文學家眼中，它是一座取之不盡、用之不竭的寶藏。文中敘述是指下列哪一座城市？ (A)耶路撒冷 (B)巴勒斯坦。
6. (A) 南亞的印度人口多且資源豐富，早期還大量種植茶葉、棉花供給歐洲市場，成為十八、十九世紀哪一個國家最重要的海外殖民地？ (A)英國 (B)法國。
7. (A) 西亞的沙烏地阿拉伯、科威特等國的經濟結構，由原來傳統農牧經濟，逐漸趨向工商業的開發，其轉變主要為下列何者提供了工業發展的資金？ (A)石油的開發 (B)煤鐵的開採。
8. (B) 附圖是地理老師在講述西亞及北非農業活動時，所發下的學習單，依據該作物的外型判斷，其所指的應為下列何種作物？ (A)橄欖樹 (B)棗椰樹。



9. (A) 附圖為泰國地鐵的讓座標語，最左方為僧侶的圖樣。泰國境內僧侶地位崇高，除了禮讓座位外，國王必須向僧侶行禮，還有專門的僧侶醫院，搭公車也都免費。泰國境內上述現象，是受到哪一個宗教的影響？ (A)佛教 (B)基督教。




10. (B) 西元 2013 年聯合國正式將南韓醃漬泡菜列入文化遺產，醃漬泡菜的文化因代代相傳，更強化了南韓人對於自身的認同感。南韓人最初醃漬泡菜是為了因應哪一項自然環境的限制？ (A)平原狹小，糧食不足 (B)緯度較高，冬季嚴寒。
11. (B) 富士山是日本人心目中的聖山，也是日本的精神象徵，其標高為 3,776 公尺，比臺灣最高峰的玉山 3,952 公尺來得低，但在日本許多風景明信片中均可發現，富士山的山頭常年積雪。請問：影響此一情形產生的主要因素為何？ (A)距海較近 (B)緯度較高。
12. (A) 附圖是在某國家常見的景象，此國家的主要宗教非常尊崇牛，街道上的人和車都要讓牛先行。請問：這個國家最可能為下列何者？ (A)印度 (B)巴基斯坦。



13. (A) 附表為部分日本和南韓的文化特色，由表中可觀察出日、韓曾經受到中國的影響很深，其原因為何？ (A)位置相對鄰近 (B)皆為季風氣候。

國家	文化特色
日本	飲茶、花道
南韓	春節祭祖、韓醫、漢字

14. (B) 近年來，南韓積極發展工業，具有相當的成效，如從事通訊業的三星公司，即在國際市場上占有一席之地。請問：目前南韓積極發展的是下列哪一種性質的產業？ (A)原料密集型產業 (B)技術密集型產業。
15. (B) 北非國家在西元 2010 年爆發反獨裁政府的「阿拉伯之春」風潮，導致多國陷入紛亂，使本區成為世界難民的主要來源。請問：這些難民若是要以最短距離前往歐洲避難，必須越過下列哪一個區域？ (A)紅海 (B)地中海。
16. (B) 「巴格達位於人類文明搖籃之一的底格里斯河與幼發拉底河流域中游，地理位置十分理想，在長達數世紀中，它不僅是阿拉伯帝國的首都、伊斯蘭教的著名城市，也是西亞地區經濟、貿易、文化、交通的中心。」上文中的巴格達位在下列哪一個地理區？ (A)伊朗高原 (B)美索不達米亞平原。
17. (A) 某國的社會生活充滿戲劇感，啟發拍電影的靈感，每年大約產出 1,600 部電影，牛津英語詞典都有了「寶來塢」這個條目。請問：上述所指的是哪一個國家？ (A)印度 (B)印尼。
18. (A) 西元 2020 年，圖坦卡門法老王的黃金寶藏特展在埃及政府准許下於臺灣展出，展場海報說明了埃及迷人的神話與信仰。海報中有一標題寫著：「埃及古文明的孕育受到□□□影響最大」，上述空格中的文字應為下列何者？ (A)尼羅河 (B)約旦河。
19. (B) 東南亞因位於哪兩大洋之間，是東、西方各國海上貿易的必爭之地？ (A)太平洋、大西洋 (B)太平洋、印度洋。
20. (B) 位於印度半島的印度大平原，主要是由下列哪兩條河流的沖積作用而形成？ (A)恆河、紅河 (B)恆河、印度河。
21. (A) 根據媒體報導，TOYOTA 汽車曾是全球銷售量的冠軍，儘管目前銷售量輸給德國福斯汽車，但是在各國網友汽車品牌的網路搜尋次數上，仍占據 74 個國家的榜首。請問：TOYOTA 汽車是屬於哪一個國家的汽車工業品牌？ (A)日本 (B)南韓。
22. (B) 附圖為西亞傳統駱駝商隊的漫畫示意圖。漫畫是要表達西亞哪一項重要的地理特徵？ (A)氣候乾燥少雨 (B)歐洲與亞洲往來必經之地。



23. (A) 我們的日常生活中常可品嚐到異國料理，某營養師在網站上分析各國料理的熱量，附圖為他分析的部分內容，請問：圖中料理應歸類在哪一國家的料理區？ (A)南韓 (B)日本。



石鍋拌飯
730大卡/450g

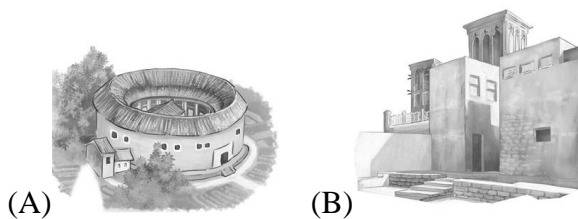


人參雞湯
565大卡/500g



泡菜鍋
685大卡/500g

24. (B) 阿勒沙是研究建築特色的文化學者，他為了研究伊斯蘭文化來到了阿拉伯半島。請問：在他的筆記中，哪一張素描圖最可能是出現於阿拉伯半島的民居型態？



25. (A) 日本的工業總產值約占國內生產總值的 30%，汽車、半導體、電子機械都是世界生產鏈的重要一環，並以注重品質、嚴謹的「工匠精神」享譽國際，但是長期以來卻存在下列哪一項發展隱憂？ (A)原料依賴進口 (B)交通路網集中。
26. (B) 南、北韓局勢日趨緊張，西元 2020 年 6 月北韓炸毀了位於開城的兩韓聯絡辦事處後，放話要在國界附近的非軍事區部署兵力，並在前線地區恢復軍事演習。南韓軍方為此也緊盯著北韓動向，雙方戰火一觸及發。請問：上文所提兩國國界是以何者為界？ (A)太白山 (B)北緯 38 度。
27. (A) 「這個國家的菜色料理非常多元，受到中國影響而有春捲、粽子、糕點都食物，甚至廟內文字也用漢字書寫，也曾受到法國殖民，改以煉乳調味的咖啡配上加入醃蘿蔔、蔬菜以及豬肉的法國麵包，超有飽足感。」請問：文中所述是下列哪一個國家？ (A)越南 (B)印尼。
28. (B) 美國的電腦軟體公司和印度分公司合作研發，利用時差縮短研發時間，這和兩地的哪一項特性最有關係？ (A)緯度高低不同 (B)經度差距較大。
29. (B) 印度首都新德里的居民在政府為了防堵疫情而全境封鎖 21 天、工廠停止的三週以來，空氣品質大改善，往北望去有 200 公里遠的世界屋脊都能清晰看見，就連山頂上白雪、山稜線都一清二楚！請問：首都居民所望見的山脊最有可能是哪一座山脈？ (A)中央山脈 (B)喜馬拉雅山。
30. (B) 東南亞某國的地理位置接近臺灣，長期以來兩國民間關係頗為密切，其中臺灣為該國外資投資的第四位，為臺灣投資東南亞國家協會國家中的第三位。此外，該國民眾的英語能力普遍佳，因此也有許多臺灣民眾到該國精進語言能力。請問：上述國家為何？ (A)緬甸 (B)菲律賓。